



Colégio Santo Agostinho – Novo Leblon

SIMULAÇÃO DA PROVA FINAL

Prof. Paulo Victor

Valor: 10 pontos

Questão 01

O nascimento da Unasul e seus desafios

O acordo constitutivo da União de Nações Sul-Americanas (Unasul) prevê diálogo político, integração física e energética, defesa do meio ambiente, adoção de mecanismos financeiros sul-americanos, superação das assimetrias regionais e criação de uma aliança militar sem os EUA.

No longo caminho da América Latina em defesa da soberania e às vésperas dos 200 anos do grito de independência em toda a região, uma nova cúpula de presidentes quer assentar as bases da integração sem os Estados Unidos.

Trata-se de um acontecimento histórico. Neste 23 de maio, os chefes de Estado de 12 nações assinaram, em Brasília, o Acordo Constitutivo da União de Nações Sul-Americanas (Unasul), cujas bases estão sendo estabelecidas desde 2004 em instâncias da Venezuela, Uruguai, Argentina, Brasil, Bolívia e Equador, e que deixa para trás a inoperante Comunidade Sul-Americana de Nações.



Carta maior, 24 de maio de 2008.

A América do Sul ainda não conseguiu construir um processo pleno de integração socioeconômica, contudo, mais que um desejo, essa integração é uma necessidade. É importante promover uma integração pelo investimento comum, pela tecnologia e pela cultura, sob o risco dela se estabelecer pelo contrabando, pelo narcotráfico e pelo crime organizado.

Apresente e explique, considerando as dinâmicas da ordem mundial vigente, um fator que justifique a necessidade do incremento da integração na América do Sul. (1,0 ponto)

Apresentação:

Explicação:

As questões 2 e 3 devem ser respondidas com base na análise do texto a seguir:

Europa recebe Obama com entusiasmo e cobranças

No último dia 3 de novembro, representantes dos países da Comunidade Européia, reunidos em Marselha, colocaram em papel o rascunho de uma carta ao próximo presidente dos Estados Unidos. A lista é enorme e com vários pontos bem estabelecidos.

Os tópicos principais da agenda de expectativas européias para um governo Barack Obama começam pela questão ecológica e ressaltam também a necessidade do fim do unilateralismo dos Estados Unidos.

Jornal do Brasil, 23 de novembro de 2008.

Questão 02

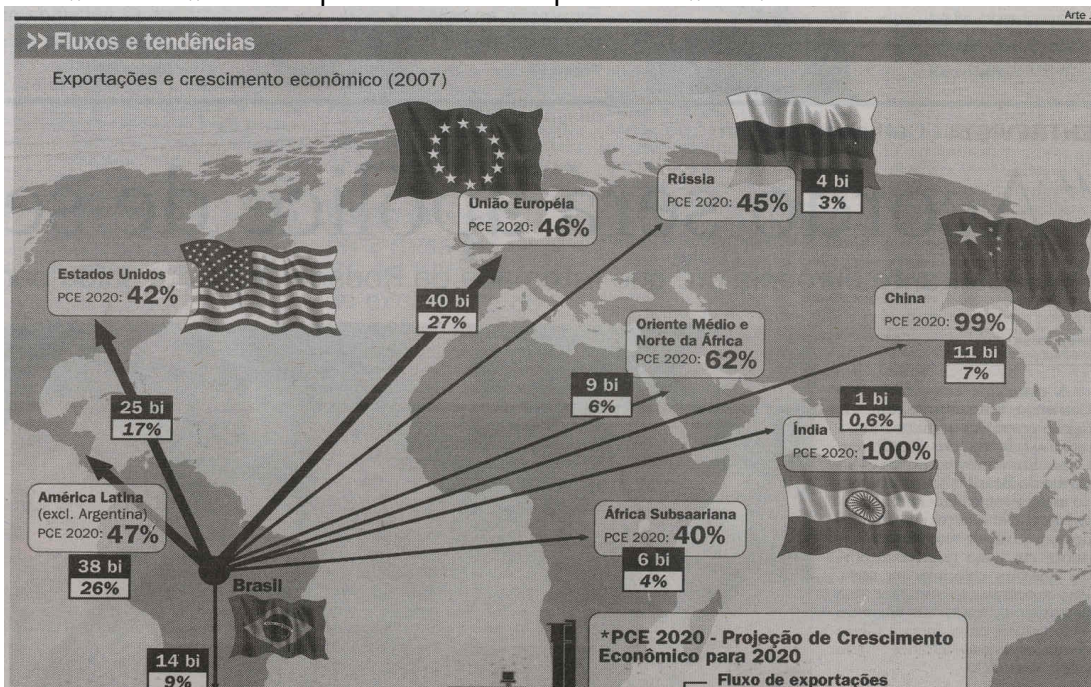
Identifique o principal ponto de divergência entre a Comunidade Européia e os Estados Unidos quanto à questão ecológica. (1,0 ponto)

Questão 03

Explique a iniciativa da Comunidade Européia, no sentido de exigir do novo governo dos Estados Unidos o fim do unilateralismo. (1,0 ponto)

Questão 04

Os dados disponíveis junto ao mapa abaixo são muito esclarecedores no sentido de destacar a condição do Brasil de um "global trader", ou seja, de um país que mantém importantes relações de comércio com diversos países de todas as partes do mundo.



Essa condição de "global trader" tende a ser reforçada nos próximos anos, mediante o crescimento muito intenso das exportações brasileiras para a China e Índia. Até 2020, as exportações para esses dois países devem crescer, respectivamente, 99% e 100%, tomando como referência as exportações realizadas em 2007.

Apresente dois fatores que expliquem as perspectivas de forte expansão das exportações brasileiras para esses dois países. (1,0 ponto)

Fator 1:

Fator 2:

Questão 05

A charge faz referência às dificuldades associadas às relações político e econômicas verificadas entre os países de centro e periferia do capitalismo neste começo de século.

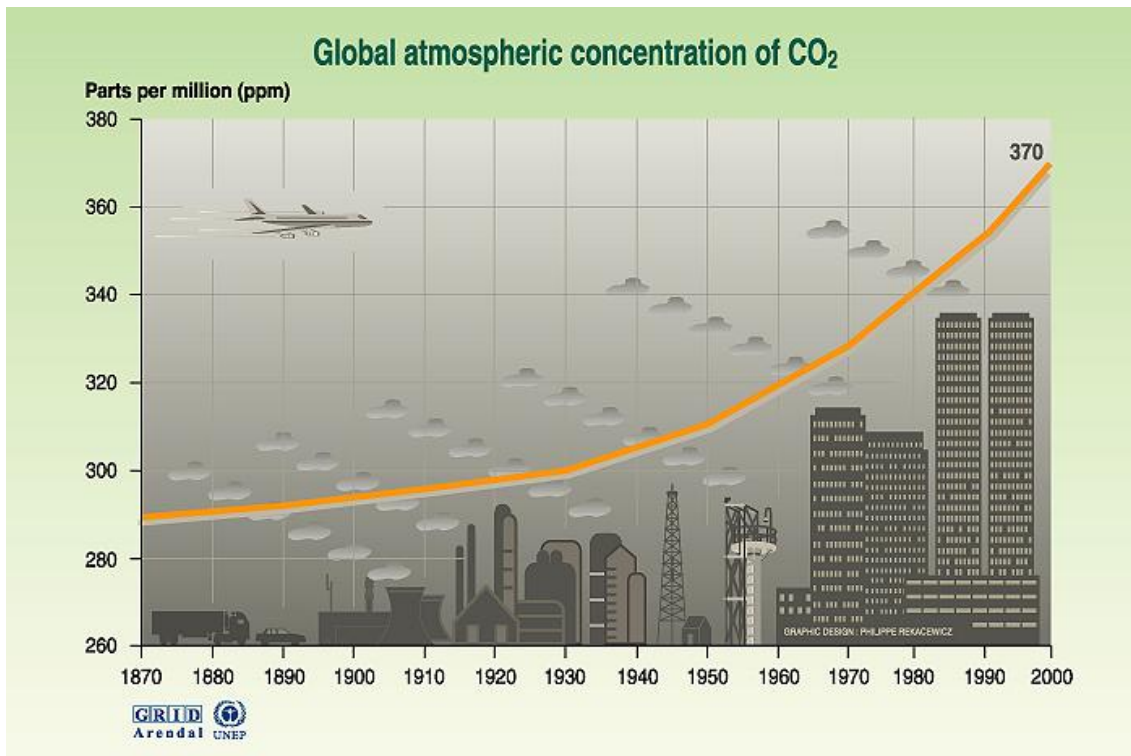


Fonte: Folha de S. Paulo, 22/06/03.

Cite uma causa do acirramento das dificuldades que envolvem as relações entre os países de centro e periferia do capitalismo. (1,0 ponto)

Questão 06 (1,0 ponto)

O crescimento dos níveis de concentração global de gás carbônico na atmosfera, notadamente verificado na segunda metade do século XX, constitui uma das maiores preocupações da comunidade internacional.



Sources: TP Whorf Scripps, Mauna Loa Observatory, Hawaii, institution of oceanography (SIO), university of California La Jolla, California, United States, 1999

a) Explique o crescimento ainda mais acentuado da concentração de gás carbônico na atmosfera ao longo da segunda metade do século XX.

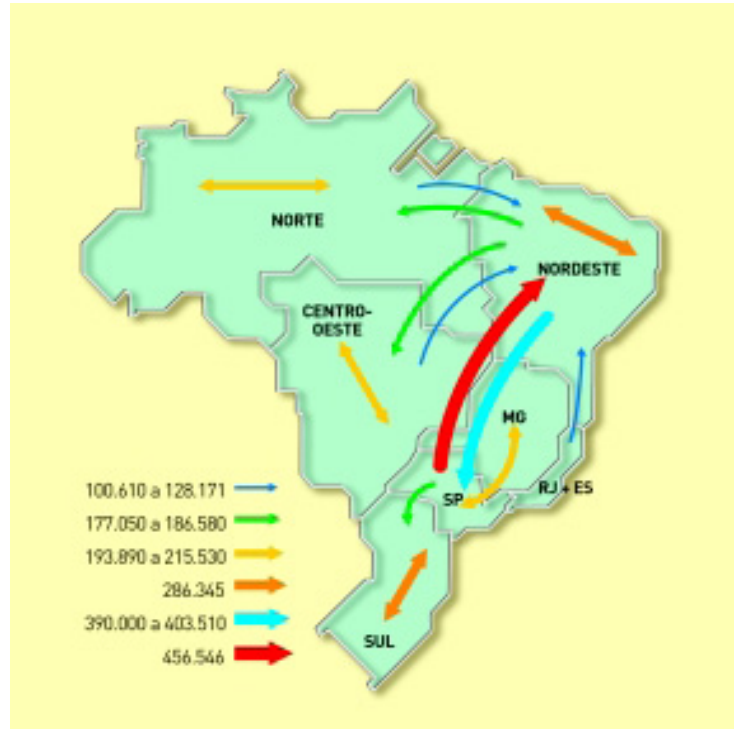
b) Apresente e explique uma situação de risco associada às informações contidas no gráfico, que justifique a crescente preocupação da comunidade internacional.

Apresentação: _____

Explicação: _____

Questão 07 (1,0 ponto)

Brasil
Fluxos populacionais nos últimos 5 anos



No período considerado, quase meio milhão de pessoas migraram do Estado de São Paulo para o Nordeste, consolidando um movimento já sentido de modo expressivo desde os anos 1980. No caso, uma típica migração de retorno.

Explique a instalação dessa migração de retorno.

Questão 08 (1,0 ponto)

REGIÃO	CIDADE	PIB 2004 (milhões de reais)
CENTRO-OESTE	Dourados (MS)	1.175,95
	Rondonópolis (MT)	1.042,13
	Rio Verde (GO)	1.435,27
	Catalão (GO)	1.097,16
	Jataí (GO)	824,15
SUDESTE	São José dos Campos (SP)	13.600,68
	Campinas (SP)	10.820,59
	Campos dos Goytacazes (RJ)	11.086,35
	Macaé (RJ)	9.280,54
	Uberlândia (MG)	6.226,44

(Adaptado de O Globo, 09/05/2005)

A tabela mostra o tamanho da economia de algumas cidades do interior do Brasil que apresentaram expressivo aumento do PIB (produto interno bruto) em 2004.

Indique o setor econômico responsável pelo referido aumento do PIB e o fator que possibilitou a atuação de destaque desse setor:

a) para o conjunto das cidades indicadas da Região Centro-Oeste.

Indicação do setor:

Indicação do fator:

b) para uma das cidades indicadas da Região Sudeste.

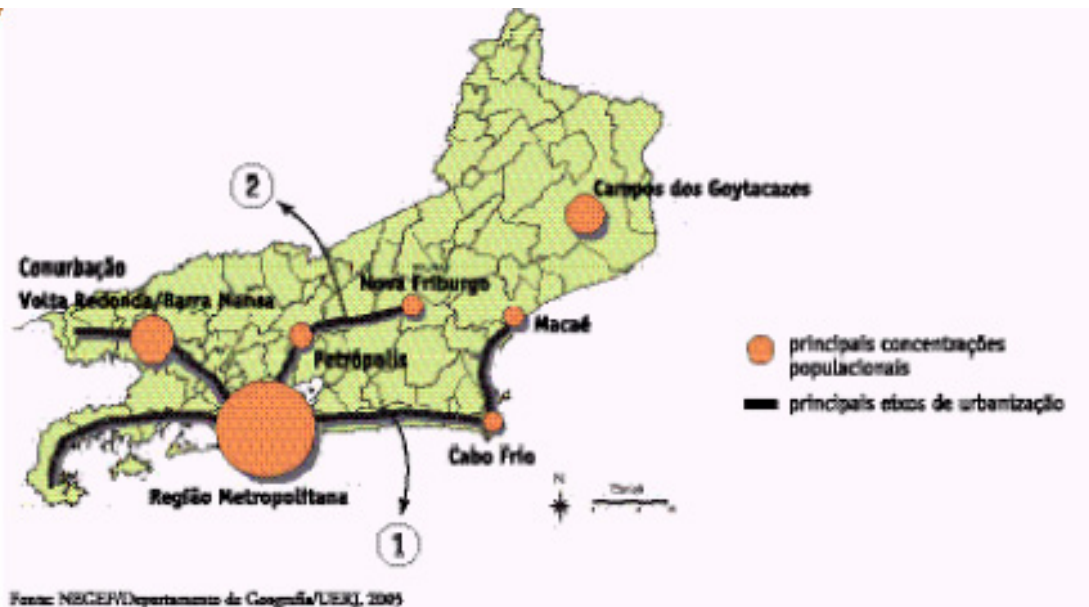
Cidade escolhida:

Indicação do setor:

Indicação do fator:

Questão 09 (1,0 ponto)

Estado do Rio de Janeiro
EIXOS DE URBANIZAÇÃO



A consolidação desses eixos de urbanização a partir dos anos 1980 reforçou o processo de desmetropolização no Estado do Rio de Janeiro. Tratam-se de eixos, que se estabeleceram no território fluminense mediante a dinamização de atividades econômicas diversas num outro nível: fora da metrópole.

a) Conceitue desmetropolização.

b) Apresente uma atividade econômica integrante do setor terciário, comum aos eixos 1 e 2, que tenha tido grande importância na dinamização do crescimento e modernização das cidades neles instaladas.

Questão 10

O quadro I oferece exemplos de países que convivem com o fenômeno da macrocefalia urbana. Esse fenômeno se instala quando uma cidade concentra mais de 50% da população urbana de um país.

O quadro II faz alusão ao avanço de um outro fenômeno urbano em países mais e menos desenvolvidos: o das megacidades.

QUADRO I

Percentual de população urbana nas maiores cidades nacionais em relação à população urbana do país

Pais	Cidade	%
Guatemala	Guatemala City	71,8
Congo	Brazzaville	66,2
Haiti	Porto Príncipe	60,9
Tailândia	Bancoc	59,2
Uruguai	Montevideu	43,2

QUADRO II

Número de aglomerações urbanas com mais de 10 milhões de habitantes

Regiões	1975	1995	2005	2015
Mais desenvolvidas	2	4	4	4
Menos desenvolvidas	3	10	15	17

(Adaptado de <http://www.un.org/esa/population/publications>)

Apresente:

A) uma consequência socioespacial para os países que apresentam o fenômeno da macrocefalia urbana.

B) uma justificativa para o processo diferenciado de urbanização retratado no quadro II.
