



Aluno _____ nº: T. _____

DESENHO Ens. Fundamental 8º Ano Professor: Flavio



«Limpeza é fundamental e faz parte da avaliação».

1- Reproduza, nas pautas abaixo, utilizando letras do tipo bastão vertical:

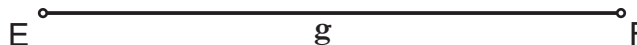
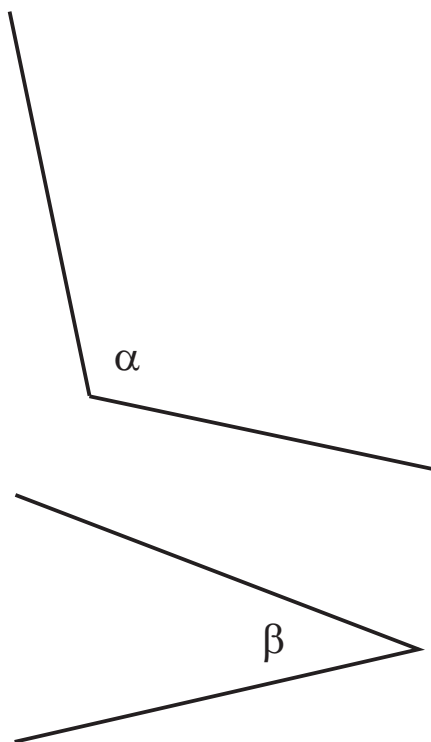
Valor 1pt.

«Sonho que se sonha só, é sonho que se sonha, só. Sonho que se sonha junto é Realidade»

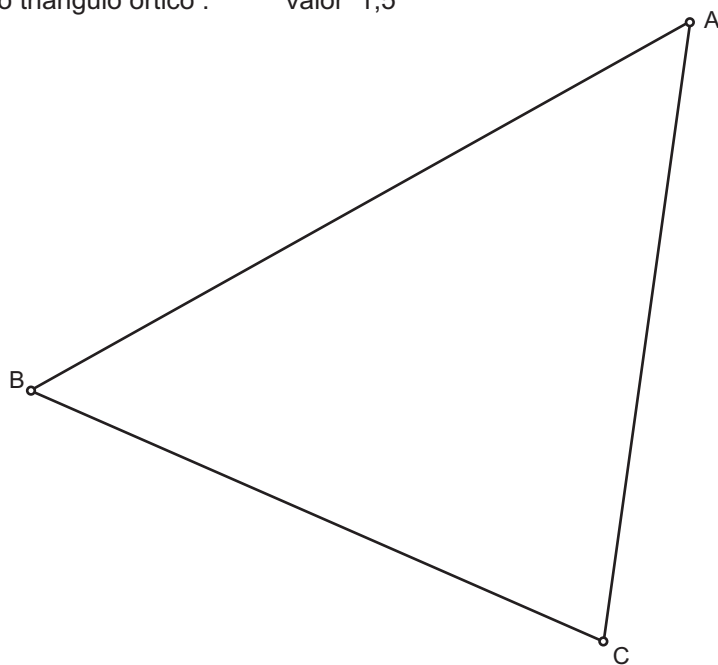
Handwriting practice lines for the quote.

2- Construa o triângulo EFG, dados: a- o lado $g = EF$; b- o ângulo $E = \alpha$; c- o ângulo $F = \beta$.

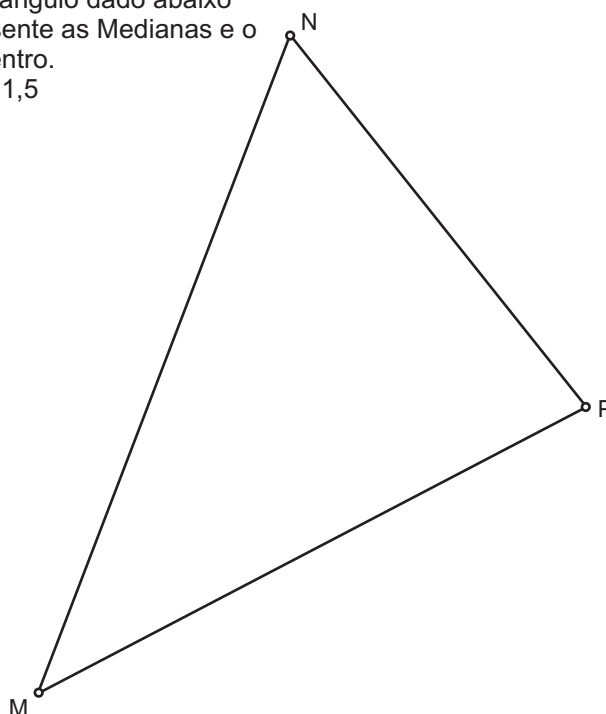
Valor 1pt



4- No triângulo dado abaixo represente as alturas, o ortocentro e o triângulo órtico. Valor 1,5



4- No triângulo dado abaixo represente as Medianas e o Baricentro. Valor 1,5



ATENÇÃO: Jamais desenhe fora do espaço reservado à questão!